














เติมตำแหน่งของรูปร่างต่างๆให้ถูกต้อง





6							
5							
4							
3							
2							
1							
	A	B	C	D	E	F	G


 =     D2    


 =                     


 =                     

 =                     


 =                     

 =                     

 =                     

 =                     

 =                     

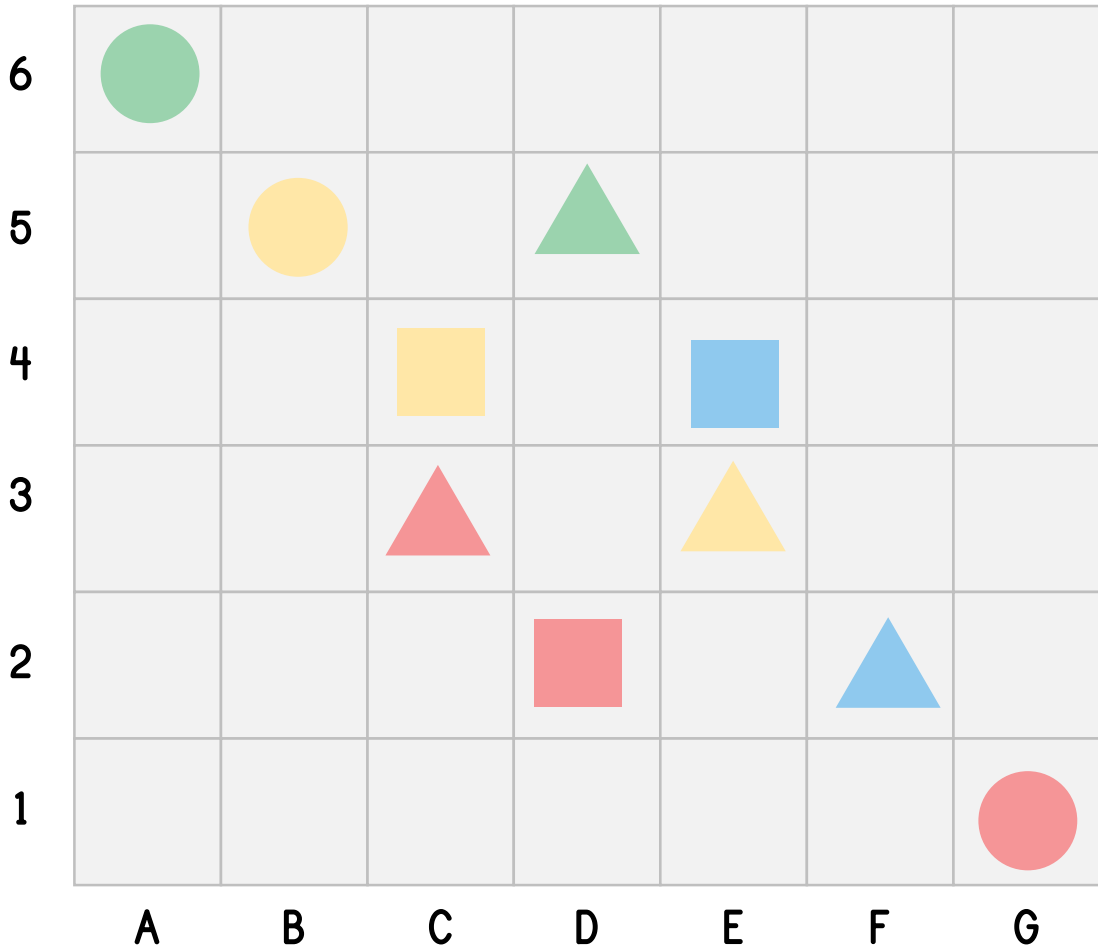
 =

ชื่อ \_\_\_\_\_

เลขที่ \_\_\_\_\_

ชั้น \_\_\_\_\_

เฉลย



= D2

= B5

= F2

= E4

= A6

= E3

= C4

= G1

= C3

= D5

เติมตำแหน่งของรูปร่างต่างๆให้ถูกต้อง



6							
5							
4							
3							
2							
1							
	A	B	C	D	E	F	G

	=	<u>    D2    </u>		=	<u>                    </u>
	=	<u>                    </u>		=	<u>                    </u>
	=	<u>                    </u>		=	<u>                    </u>
	=	<u>                    </u>		=	<u>                    </u>
	=	<u>                    </u>		=	<u>                    </u>

ชื่อ \_\_\_\_\_

เลขที่ \_\_\_\_\_

ชั้น \_\_\_\_\_



เฉลย

6							
5							
4							
3							
2							
1							
	A	B	C	D	E	F	G

=           
D2

=           
B5

=           
F2

=           
E4

=           
A6

=           
E3

=           
C4

=           
G1

=           
C3

=           
D5