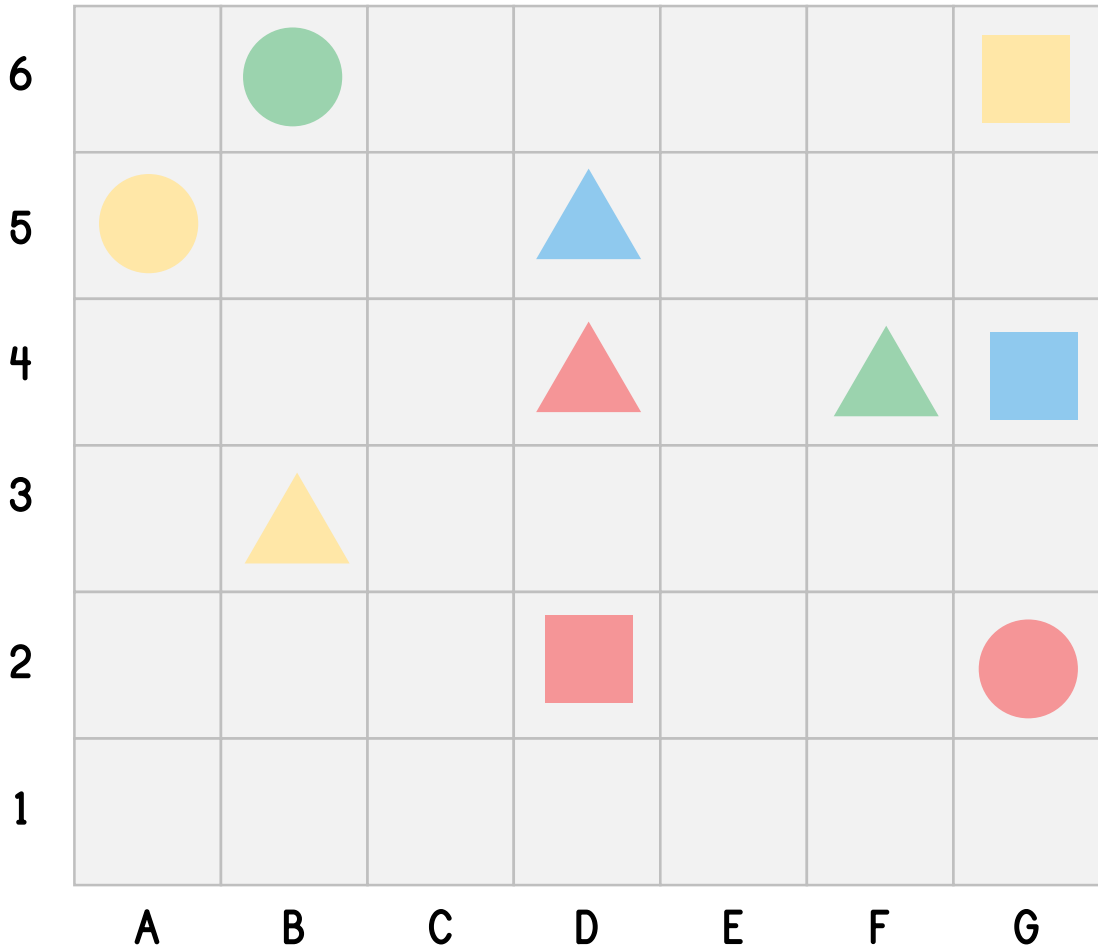






เติมตำแหน่งของรูปร่างต่างๆให้ถูกต้อง





 =          G6


 =         


 =         


 =         


 =         

 =         

 =         

 =         

 =         

 =











ชื่อ \_\_\_\_\_


เลขที่ \_\_\_\_\_


ชั้น \_\_\_\_\_


เฉลย




6							
5							
4							
3							
2							
1							
	A	B	C	D	E	F	G

 = G6

 = B6

 = F4

 = D2

 = G2

 = B3

 = G4

 = A5

 = D5

 = D4

เติมตำแหน่งของรูปร่างต่างๆให้ถูกต้อง



6							
5							
4							
3							
2							
1							
	A	B	C	D	E	F	G

	=	<u>        G6        </u>		=	<u>                        </u>
	=	<u>                        </u>		=	<u>                        </u>
	=	<u>                        </u>		=	<u>                        </u>
	=	<u>                        </u>		=	<u>                        </u>
	=	<u>                        </u>		=	<u>                        </u>

ชื่อ \_\_\_\_\_

เลขที่ \_\_\_\_\_

ชั้น \_\_\_\_\_



เฉลย

6							
5							
4							
3							
2							
1							
	A	B	C	D	E	F	G

=           
G6

=           
B6

=           
F4

=           
D2

=           
G2

=           
B3

=           
G4

=           
A5

=           
D5

=           
D4