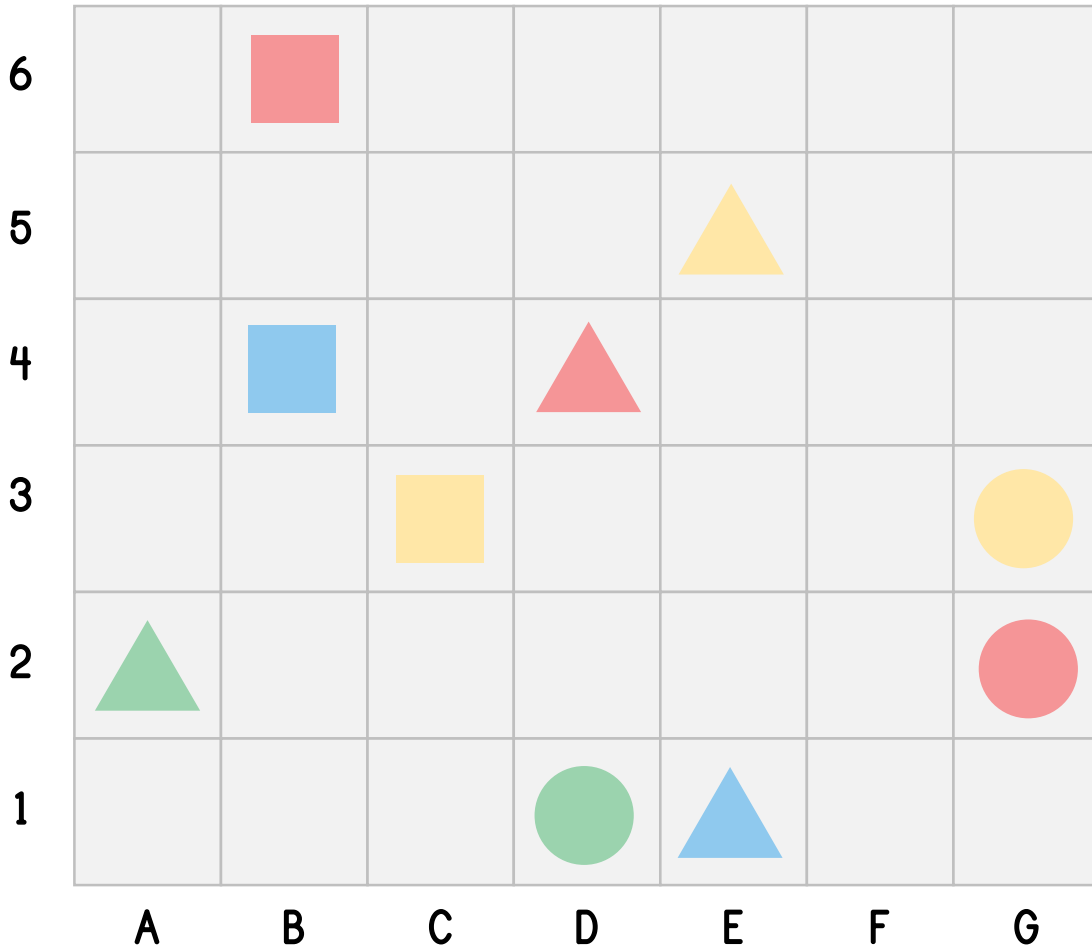












เติมตำแหน่งของรูปร่างต่างๆให้ถูกต้อง



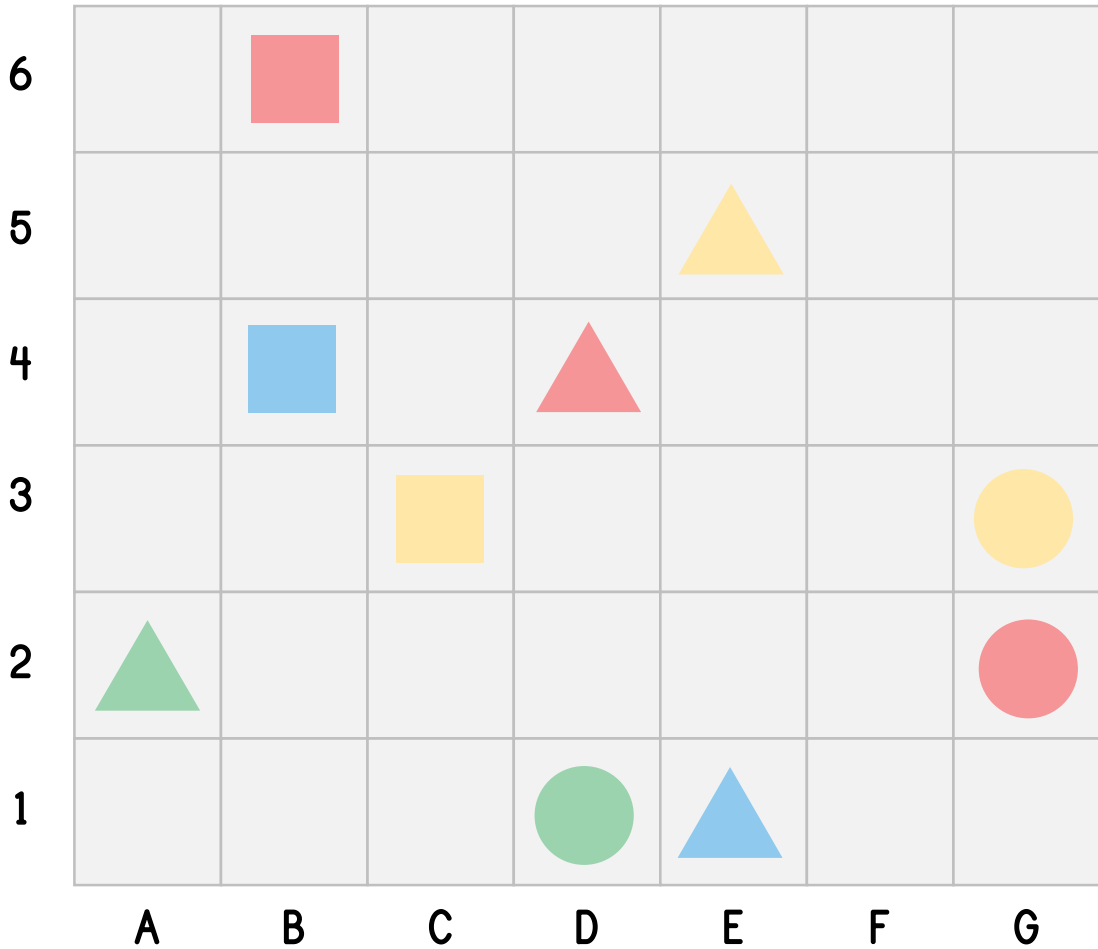
	=	<u>B6</u>		=	<u> </u>
	=	<u> </u>		=	<u> </u>
	=	<u> </u>		=	<u> </u>
	=	<u> </u>		=	<u> </u>
	=	<u> </u>		=	<u> </u>


ชื่อ _____


เลขที่ _____


ชั้น _____

เฉลย





 = B6


 = D1


 = A2


 = C3


 = G3

 = E1

 = B4

 = G2

 = D4

 = E5

เติมตำแหน่งของรูปร่างต่างๆให้ถูกต้อง



6							
5							
4							
3							
2							
1							
	A	B	C	D	E	F	G

	=	<u> B6 </u>		=	<u> </u>
	=	<u> </u>		=	<u> </u>
	=	<u> </u>		=	<u> </u>
	=	<u> </u>		=	<u> </u>
	=	<u> </u>		=	<u> </u>

ชื่อ _____

เลขที่ _____

ชั้น _____




เฉลย

6							
5							
4							
3							
2							
1							
	A	B	C	D	E	F	G



= B6



= D1



= A2




= C3




= G3




= E1



= B4



= G2



= D4



= E5